

Lesweek 3




- Je leert: Mayacijfers (20-tallig)
- Je herhaalt: vlakvulling met driehoeken en vierhoeken – hoeken meten met een geodriehoek – soorten vierhoeken


1 Mayacijfers (20-tallig)

 Kijk de video


1A. Welk Mayagetal is dit?

voorbeeld


400		800
20		20
1		7




...



...



...




...

1B. Schrijf de getallen in Mayacijfers eronder.

	287	93	325	134	641	1249
400						
20						
1						


3 Hoeken meten met een geodriehoek

3. Meet de hoeken met een geodriehoek. Er zijn steeds twee hoeken die even groot zijn. Geef die dezelfde kleur. Er blijft één driehoek over. Zet daar een rondje om.



4 Soorten vierhoeken

4A. Vul de glazen van de zonnebril met verschillende soorten vierhoeken. Er moeten in ieder geval vierkanten, rechthoeken en trapeziums in voorkomen.



4B. Knip de rechthoek op het werkblad uit in drie stukken. Kan jij van de rechthoek een vierkant maken? Plak het vierkant hieronder op.



Werkblad lesweek 3: Van rechthoek naar vierkant

