







# Lesweek 15

- Je leert: getallen herkennen die deelbaar zijn door 2
- Je herhaalt: cirkeldiagram

## 1 Deelbaar door 2 (even en oneven getallen)

 Kijk de video

1A. Verdeel eerlijk.

			
6		3	3
10			
8			
12			
kies zelf een even getal:			
...			

1B. Maak de rij met even getallen af.

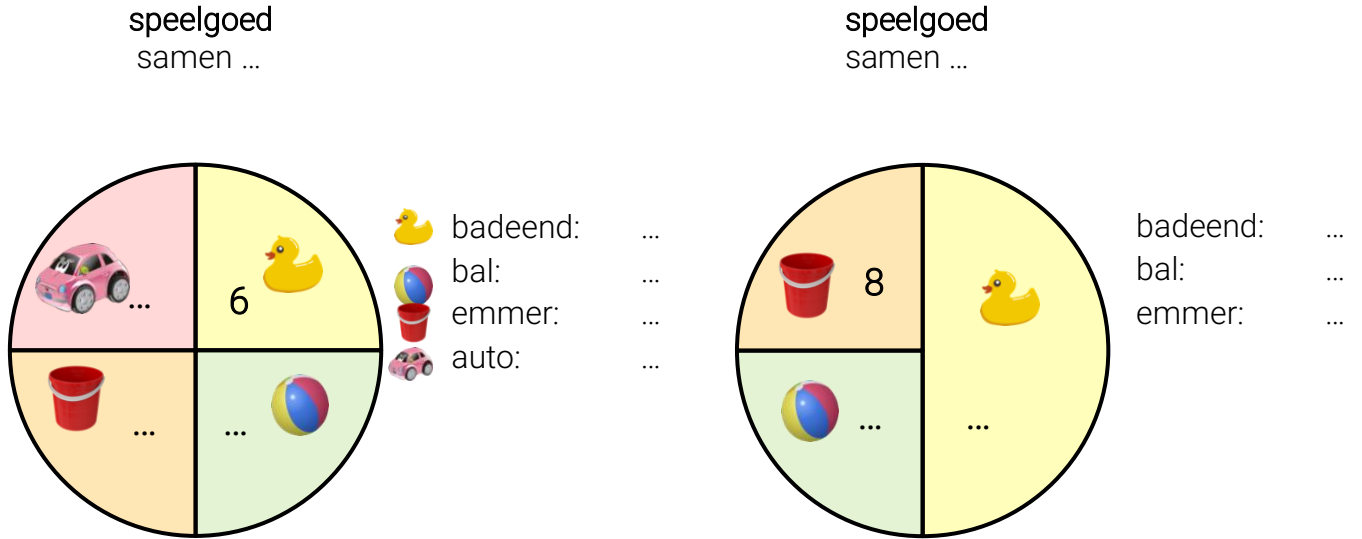
2, 4, 6, 8, 10, ... , ... , 16, ... , ... , ... , ... , ...

1C. Kleur de wolken met getallen die deelbaar zijn door 2.



## 2 Diagrammen

2A. Schrijf op hoeveel er van alles is. En hoeveel speelgoed is er in totaal?

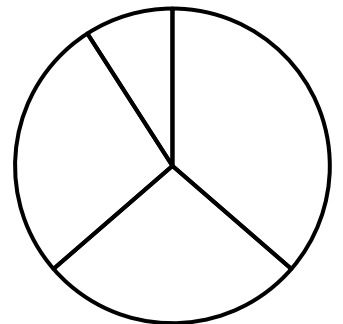


2B. Tel het speelgoed en schrijf in de tabel. Maak daarna het cirkeldiagram af.



...	...	...	...

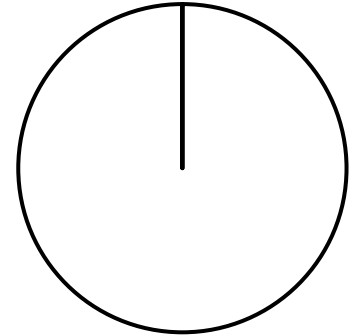
speelgoed  
samen ...



2C. Teken zelf vier soorten speelgoed. Vul de tabel in. En maak er een cirkeldiagram bij.

Teken hier speelgoed


speelgoed  
samen ...



...	...	...	...

2D. Beantwoord de vragen.

speelgoed



Van welk speelgoed is er het meest?

.....

Van welk speelgoed is er het minst?

.....

Zijn er meer auto's of meer ballen?

.....

Zijn er minder ballen of minder emmers?

.....