

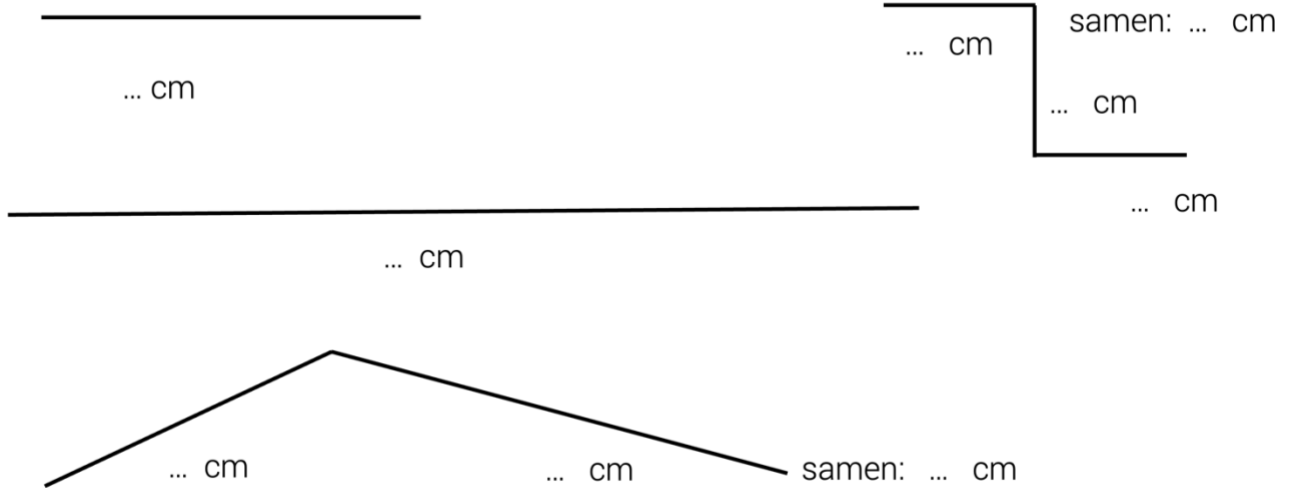
Lesweek 19

- Je leert: meten met een liniaal
- Je herhaalt: Romeinse cijfers (t/m 12) – vlakvulling door schuiven en draaien

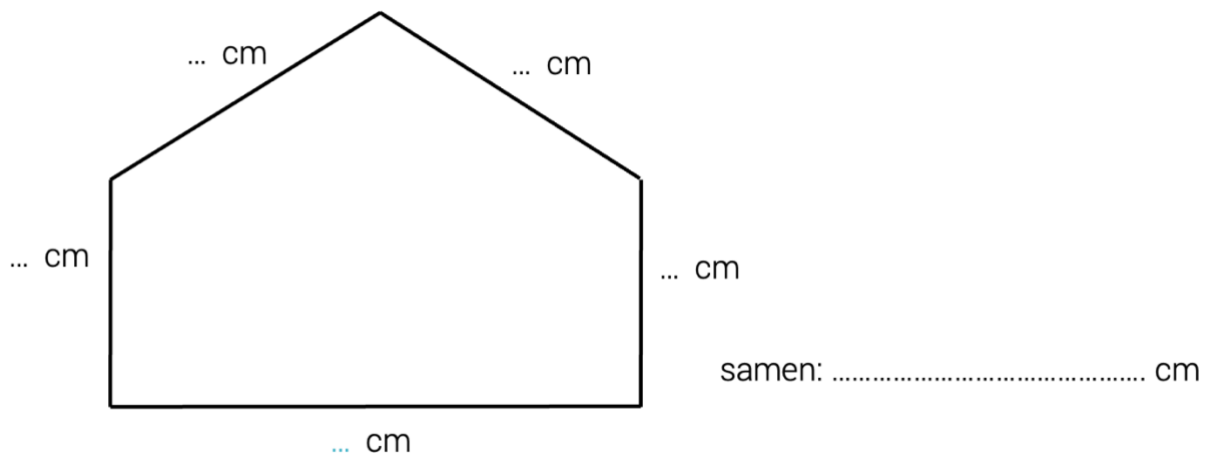
1 Meten met een liniaal

 Kijk de video


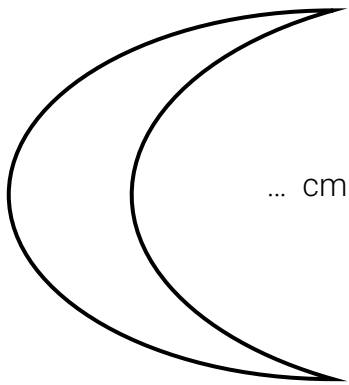
1A. Meet hoe lang de lijnen zijn.



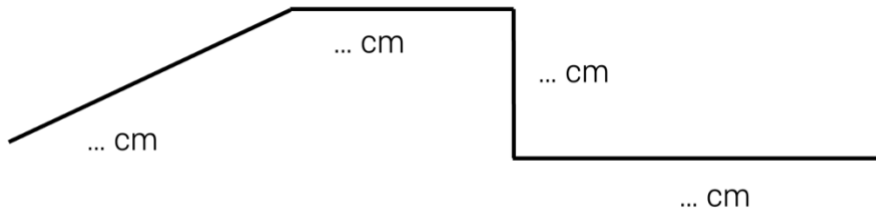
1B. Meet de lijnen van het huis.



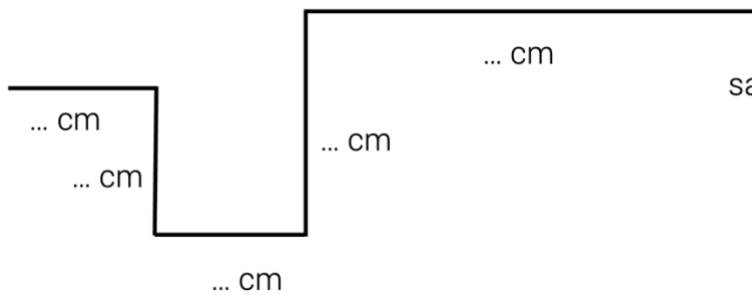
1C. Meet de ronde lijnen. Gebruik een touwtje.



1D. Welke lijn is het langst? Meet op. Zet een pijl bij de langste lijn.



samen: cm



samen: cm

1E. Meet vier dingen: een potlood, een gum en kies nog twee andere dingen.



... cm

... cm

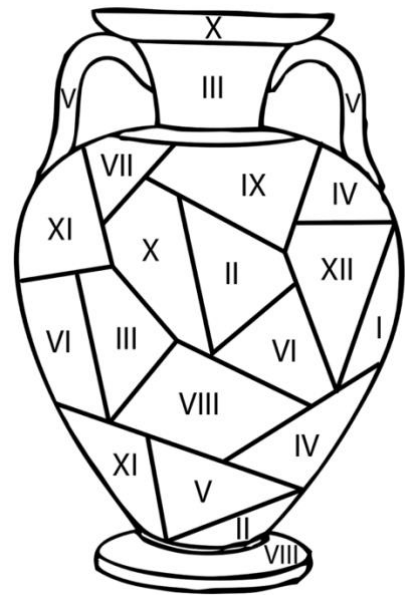
.....
... cm

.....
... cm

2 Romeinse cijfers (t/m 12)

2. Kleur de Romeinse vaas.

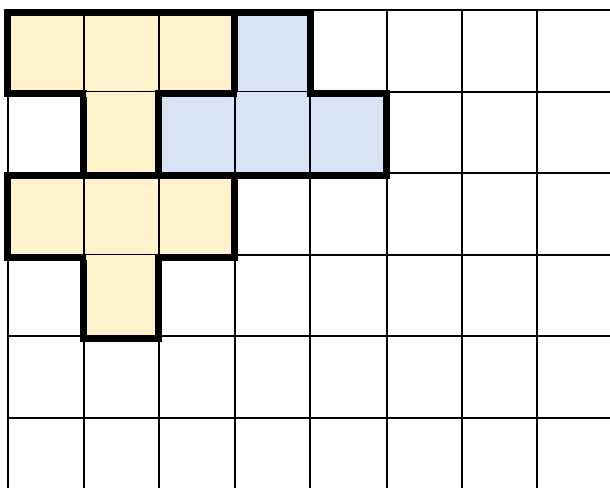
- 1 = rood
- 2 = oranje
- 3 = lichtgroen
- 4 = donkergroen
- 5 = licht blauw
- 6 = donker blauw
- 7 = oranje
- 8 = roze
- 9 = licht blauw
- 10 = geel
- 11 = paars
- 12 = geel



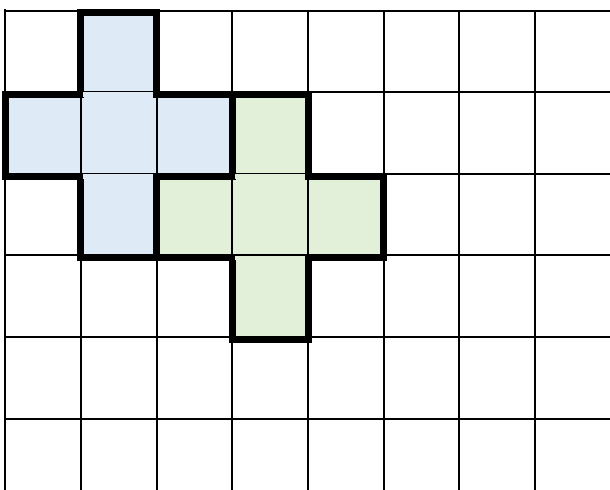
3 Vlakvulling door schuiven en draaien

3A. Kleur alle tegels op het werkblad hetzelfde in. Gebruik twee kleuren.
Knip uit. Maak verschillende vormen. Plak je mooiste vlakvulling hieronder op.


3B. Maak de vlakvulling af door te schuiven en draaien.



3C. Maak de vlakvulling af door te schuiven. Is het te moeilijk? Knip dan de twee kruizen van het werkblad uit en gebruik deze als hulpmiddel.



3D. Ontwerp zelf een vlakvulling.



Werkblad lesweek 19: Vlakvulling

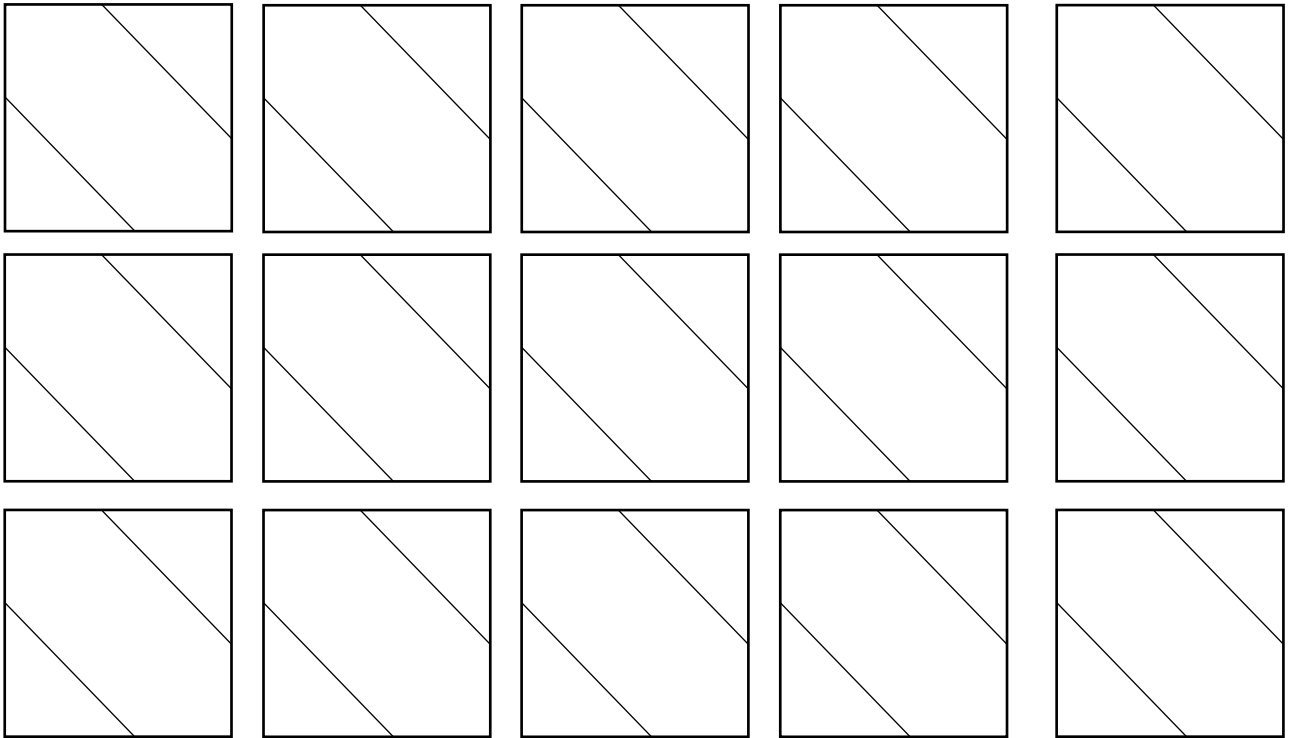
3A

Kleur alle tegels hetzelfde in. Gebruik twee kleuren.

Knip uit.

Maak verschillende vormen.

Plak je mooiste vlakvulling op bij 1A.



3C.

Knip de twee kruizen uit en gebruik deze als hulpmiddel.

