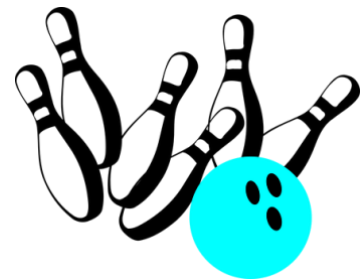
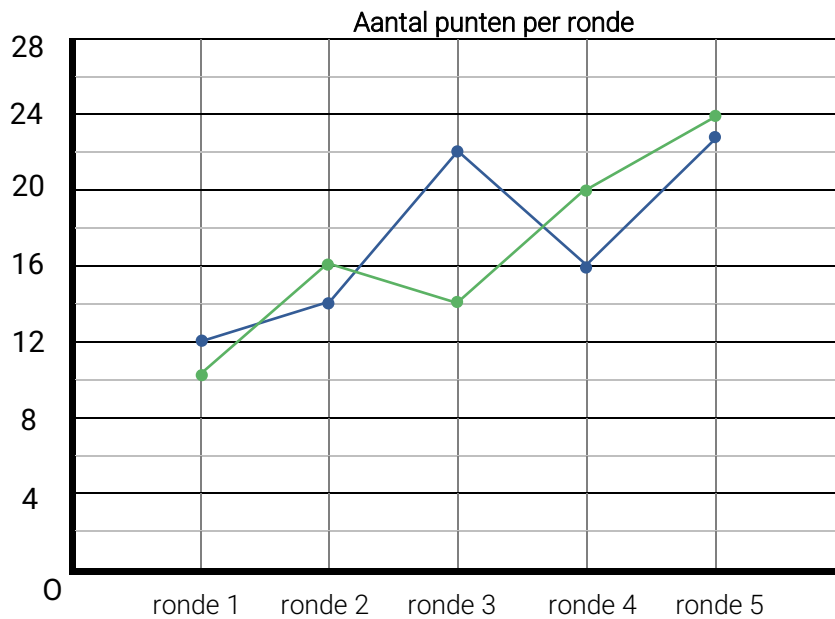


Groep 6 Instapweek 2

Je leert: lijngrafiek lezen – tientalig talstelsel

1 Lijngrafiek lezen

1A. Lotte en Hugo doen een spel. In elke ronde halen ze punten.



—●— Lotte
—●— Hugo

In welke ronde was het verschil het grootst? ... Hoe groot was het verschil toen? ...

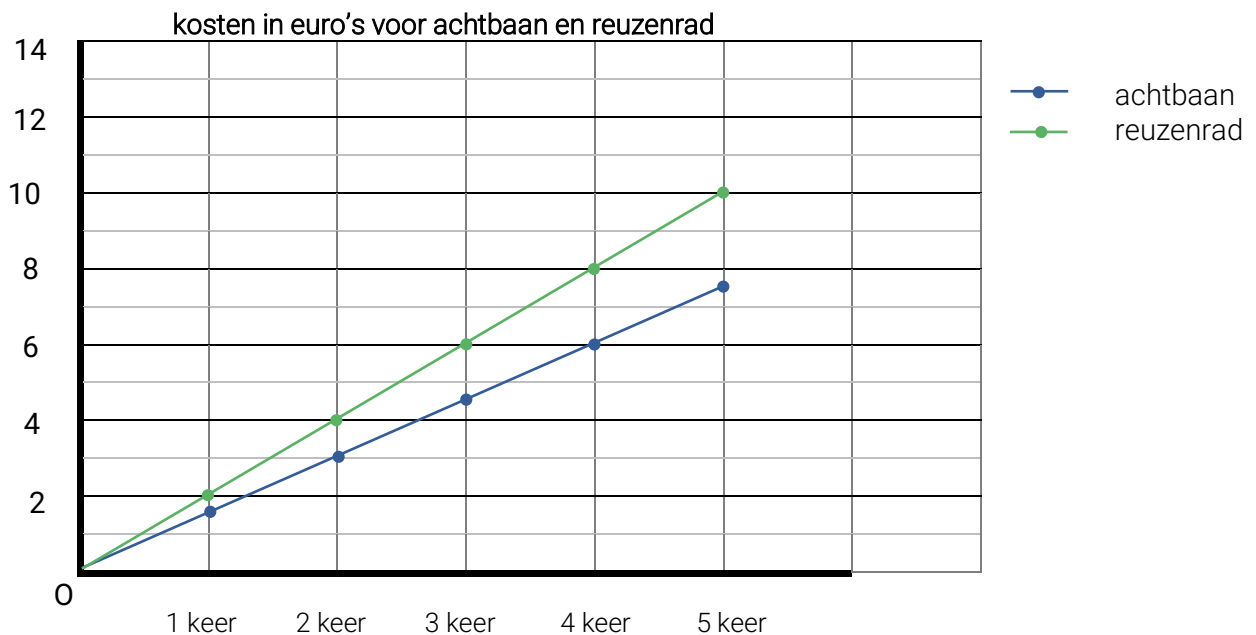
Wie heeft de meeste rondes gewonnen?

Wie heeft uiteindelijk de meeste punten gehaald in alle rondes?

Hoeveel punten haalde de winnaar in totaal? ...

1B. In dit pretpark betaal je elke keer dat je in de achtbaan of het reuzenrad gaat. Maak de tabel en de lijngrafiek af.

aantal keer	1	2	3	4	5
achtbaan	€ 1,50	€ 3,-	€ 7,50
reuzenrad	€ 6,-	€ 8,-	€ 10,-



Wat is het verschil tussen 5 keer in de achtbaan en 5 keer in het reuzenrad gaan? € ...

Als je precies € 6,- uit wil geven, kun je kiezen wat je wil doen. Waar kun je uit kiezen?

.....

Teken met een liniaal de beide lijnen verder. Je ziet dan hoeveel geld het kost na 7 keer.

Wat kost 7 keer met de achtbaan? En 7 keer met het reuzenrad?

1C. In de lijngrafiek hierboven staan rechte lijnen. Je noemt dat een lineaire lijngrafiek. Horen de tabellen hieronder ook bij een lineaire lijngrafiek?

	januari	februari	maart	april
groep 5	€ 14	€ 16	€ 18	€ 22
groep 6	€ 26	€ 27	€ 29	€ 30

	januari	februari	maart	april
groep 5	€ 14	€ 16	€ 18	€ 20
groep 6	€ 26	€ 27	€ 28	€ 29

Wel/niet lineair, want:









.....

Wel/niet lineair, want:

.....

2 Tientallig talstelsel

2A. Teken in de tabel.

	duizendtal 	honderdtal 	tiental 	eenheid 
4373				
5718				

2B. Vind de juiste weg.

